

Họ và tên: Lớp:.....

KIỂM TRA

A - TRẮC NGHIỆM

I – Khoanh vào chữ cái trước ý trả lời đúng.

Câu 1: Có tất cả bao nhiêu quả bóng bay?

- A. 10
- B. 12
- C. 20



Câu 2: Số bóng bay này

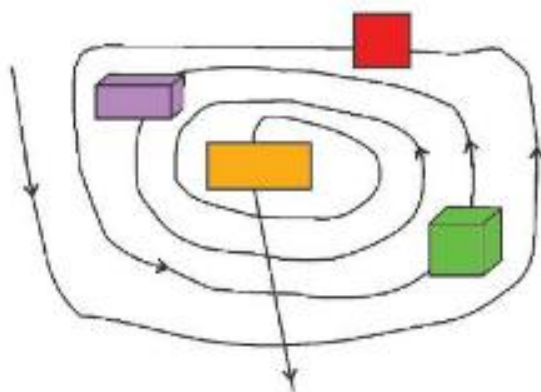
- A. ít hơn 10
- B. nhiều hơn 10
- C. nhiều hơn 12

Câu 3: Viên gạch có dạng hình gì?

- A. Hình tròn
- B. Hình vuông
- C. Hình chữ nhật



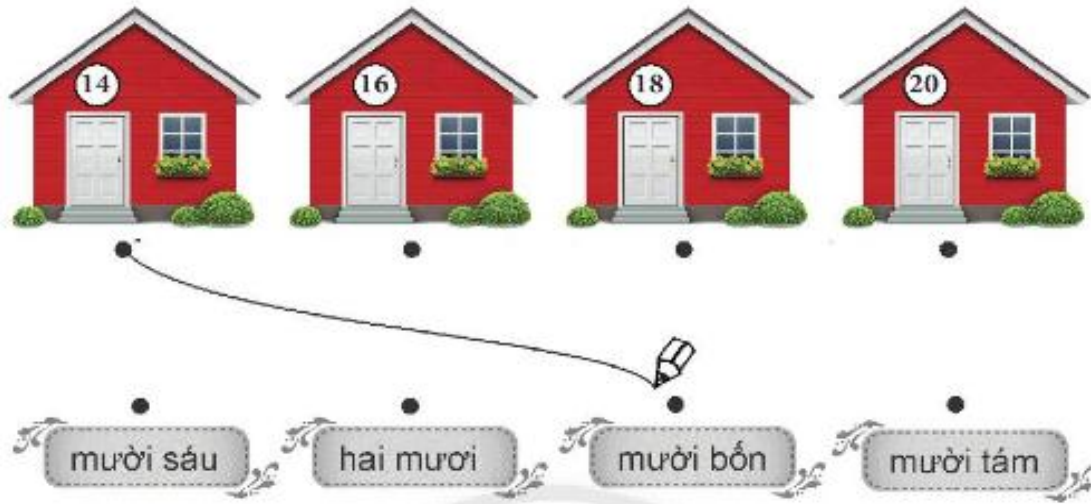
Câu 4: Thứ tự các hình khi đi theo mũi tên là:



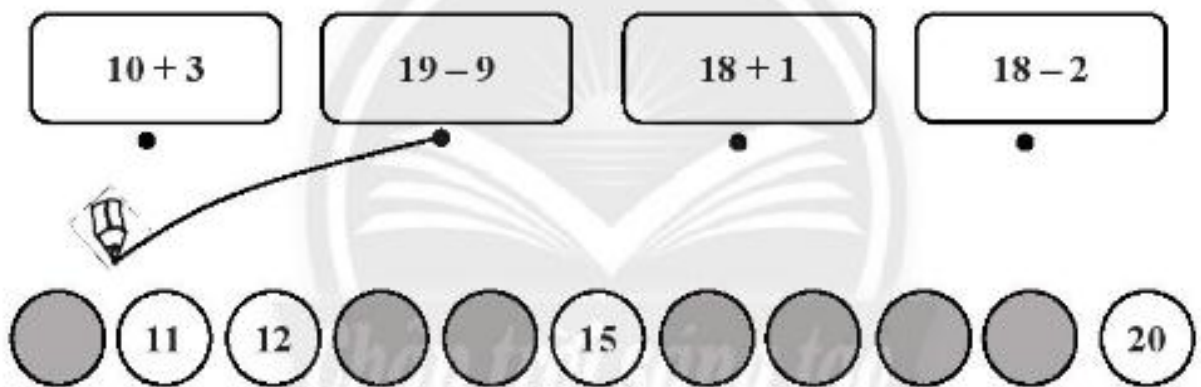
- A.
- B.
- C.

II – NỐI

Câu 1:

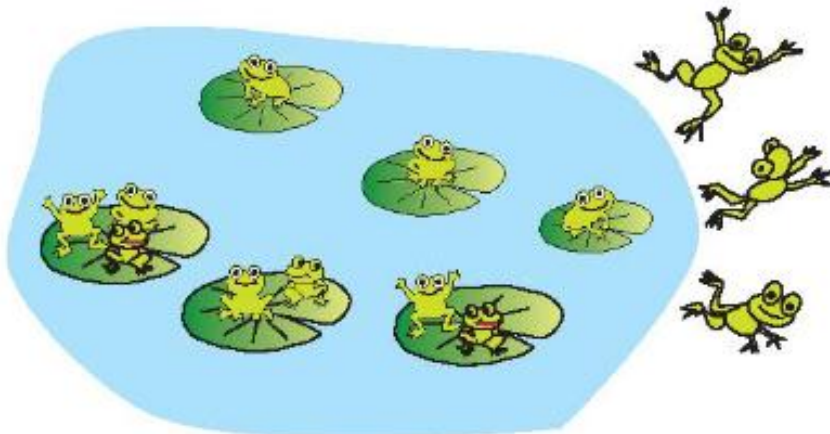


Câu 2:

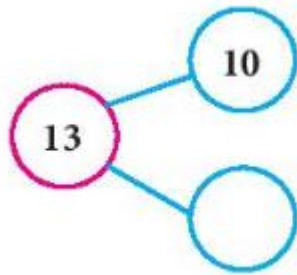


B – TỰ LUẬN

Câu 1: Xem tranh



a) Số?



b) Viết một phép tính phù hợp với sơ đồ tách – gộp số câu a.

--	--	--	--	--

Câu 2: Số?

 ... giờ	 ... giờ	 ... giờ	 ... giờ
-----------------	-----------------	-----------------	-----------------