

Ôn luyện Toán

1. Đặt tính rồi tính:

$18 - 5$

.....

.....

.....

$17 - 2$

.....

.....

.....

$19 - 2$

.....

.....

.....

$14 - 1$

.....

.....

.....

$16 - 5$

.....

.....

.....

$13 - 2$

.....

.....

.....

$15 - 3$

.....

.....

.....

$19 - 5$

.....

.....

.....

2. Tính:

$18 - 6 + 4 = \dots\dots$

$19 - 8 + 6 = \dots\dots$

$17 - 3 + 2 = \dots\dots$

$15 - 1 - 2 = \dots\dots$

3. Đúng ghi đ, sai ghi s vào ô trống:

$\begin{array}{r} 13 \\ - 1 \\ \hline 3 \end{array}$	<input type="radio"/>
--	-----------------------

$\begin{array}{r} 14 \\ - 3 \\ \hline 11 \end{array}$	<input type="radio"/>
---	-----------------------

$\begin{array}{r} 17 \\ - 6 \\ \hline 12 \end{array}$	<input type="radio"/>
---	-----------------------

$\begin{array}{r} 19 \\ - 1 \\ \hline 9 \end{array}$	<input type="radio"/>
--	-----------------------

4. Nối (theo mẫu):

$17 - 5$

$19 - 4$

$11 + 3$

$12 + 4$

$18 - 4$

$11 + 1$

$12 + 3$

$19 - 3$

Thứ ba, ngày 17 tháng 3 năm 2020

Ôn luyện Tiếng Việt

*** Bài tập:**

1. Điền vào chỗ chấm **g** hay **gh**?

- Bé sắp xếp bànéònàng, ngăn nắp.

- Nhà Lan ởân nhà Hà.

2. Điền vào chỗ chấm **c, k** hay **q**?

- Đầu năm học, mẹ mua cho bé chiếcặp sách,uyên truyện tranh và cái
.....ính mới.

3. Điền vào chỗ chấm:

a. (**trung/ chung**): bánh bày

b. (**da/ gia**): đình cặp

c. (**chân/ trăn**): trọng thành

4. Điền vào chỗ trống:

a. (**iu/ ui**): cái t'..... ch,.... khó b~..... môi

b. (**iu/ uu**): cái r'..... t,..... trường s..... tâm

5. Nối ô chữ cho phù hợp:

Trên bầu trời

xôn xao ngộ nhỏ

Em học tốt

rất vui tính

Trẻ em nô đùa

nhiều ngôi sao lấp lánh

Bạn Lân

bố mẹ tự hào lắm

6. Em viết lời giải cho câu đố sau:

Con gì đuôi ngắn, tai dài
Mắt hồng, lông mượt có tài chạy nhanh?

Ôn luyện Toán

1. Đặt tính rồi tính:

$18 - 8$

.....

.....

.....

$12 + 3$

.....

.....

.....

$10 + 6$

.....

.....

.....

$14 - 4$

.....

.....

.....

$15 - 5$

.....

.....

.....

$11 + 6$

.....

.....

.....

$18 + 0$

.....

.....

.....

$19 - 9$

.....

.....

.....

2. Tính:

$17 + 1 - 8 = \dots\dots\dots$

$12 + 3 - 5 = \dots\dots\dots$

$14 + 2 - 6 = \dots\dots\dots$

$19 - 3 - 6 = \dots\dots\dots$

3. >, <, = :

$14 - 4 \quad \square \quad 13 - 3$

$12 + 7 \quad \square \quad 13 + 5$

$19 - 7 \quad \square \quad 18 - 8$

$17 + 0 \quad \square \quad 18 - 1$

$13 - 3 \quad \square \quad 16 - 6$

$15 + 4 \quad \square \quad 13 + 4$

4. Viết phép tính thích hợp:

Có : 14 con chim

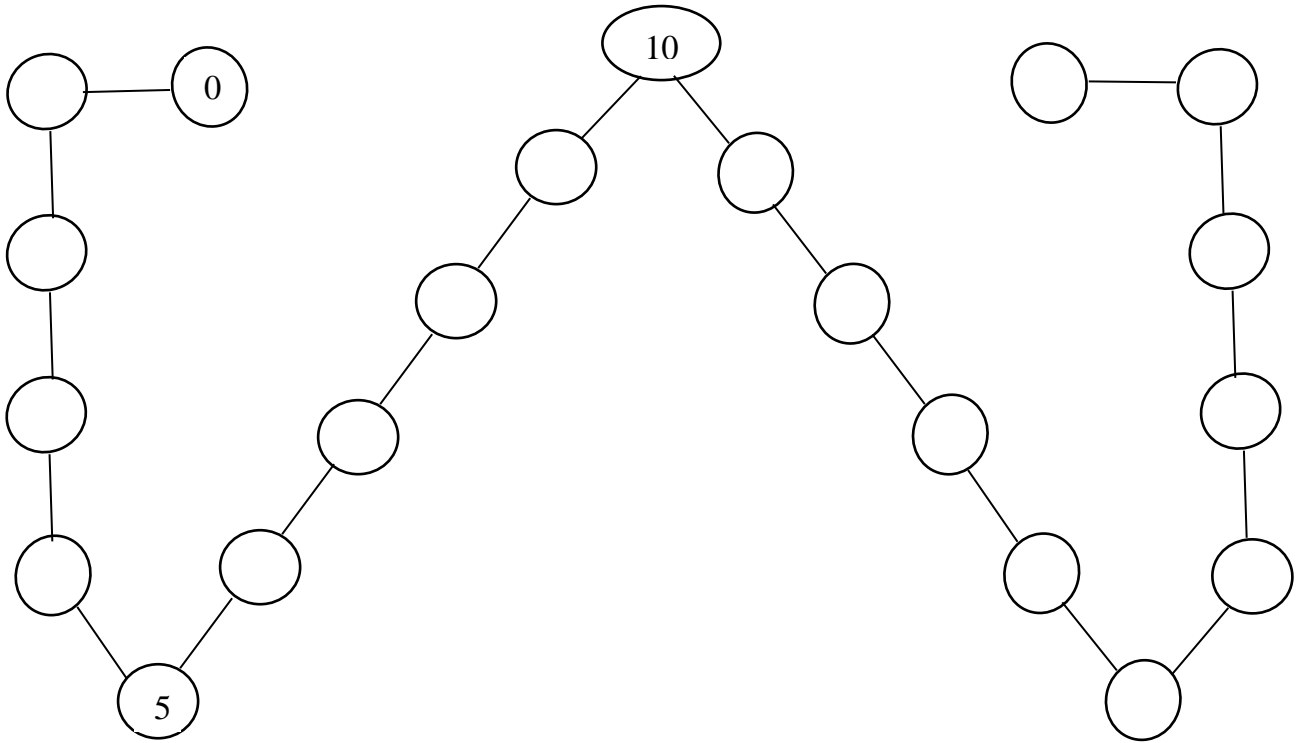
Bay đi : 4 con chim

Còn : ... con chim?

--	--	--	--	--

Ôn luyện Toán

1. Viết các số thích hợp theo thứ tự từ bé đến lớn vào ô trống:



2. Số:

Số liền trước	Số đã cho	Số liền sau
12	13	14
	15	
	18	
	19	

Số liền trước	Số đã cho	Số liền sau
	12	
	14	
	16	
	17	

3. Số:

$$13 \xrightarrow{+4} \square \xrightarrow{+2} \bigcirc$$

$$19 \xrightarrow{-7} \square \xrightarrow{+2} \bigcirc$$

$$12 \xrightarrow{+5} \square \xrightarrow{-3} \bigcirc$$


$$18 \xrightarrow{-6} \square \xrightarrow{+3} \bigcirc$$

$$14 \xrightarrow{+4} \square \xrightarrow{-3} \bigcirc$$

$$11 \xrightarrow{+8} \square \xrightarrow{-2} \bigcirc$$


Ôn luyện Toán

1. Viết số thích hợp vào chỗ chấm để có bài toán:



Bài toán: Có quả bí ngô và quả cà chua. Hỏi có tất cả bao nhiêu quả?

2. Viết số thích hợp vào chỗ chấm để có bài toán:



Bài toán: Có ô tô đang ở bên xe. Có ô tô đang về bên xe. Hỏi bây giờ trong bến có tất cả bao nhiêu ô tô?

3. Viết tiếp câu hỏi để có bài toán:

Bài toán: Có 1 con chim mẹ và 4 con chim con

Hỏi.....?




4. Nhìn hình vẽ, viết tiếp vào chỗ chấm để có bài toán:

Bài toán: Có con sư tử và

..... con hươu cao cổ. Hỏi.....


.....

.....?



Thứ sáu, ngày 20 tháng 3 năm 2020

PHẦN THƯỜNG: VỪA HỌC VỪA CHƠI



Các em tìm, đọc các từ trên tranh rồi viết vào bảng cho thích hợp, sau đó tô màu cho bức tranh nhé!

uôn	
uông	
ươn	
ương	

CÁC EM LÀM BÀI TỐT NHÉ! - CÔ PHƯƠNG